

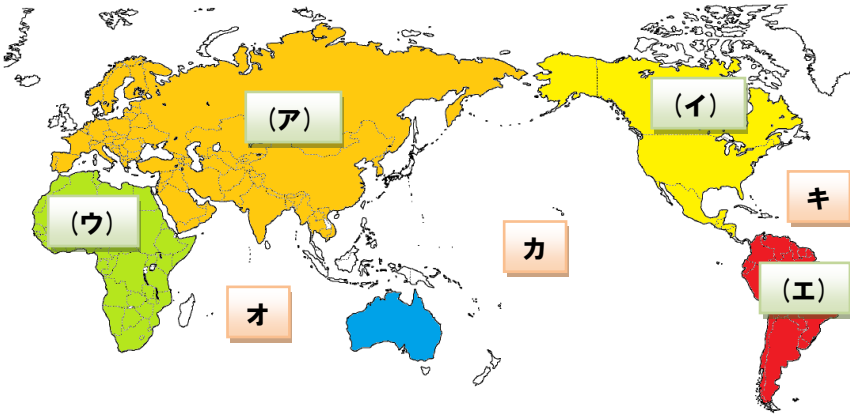
(各5点) 知識・理解(50)

技能(50)



1 下の世界地図を見て、答えましょう。

(1) (ア) から (エ) の大陸の名前を書きましょう。

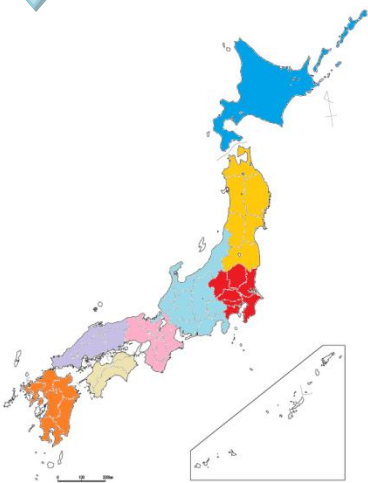


- (ア) (**ユーラシア**) 大陸
- (イ) (**北アメリカ**) 大陸
- (ウ) (**アフリカ**) 大陸
- (エ) (**南アメリカ**) 大陸

(2) ①から③の海洋の名前を書きましょう。

- (オ) (**インド洋**)
- (カ) (**太平洋**)
- (キ) (**大西洋**)

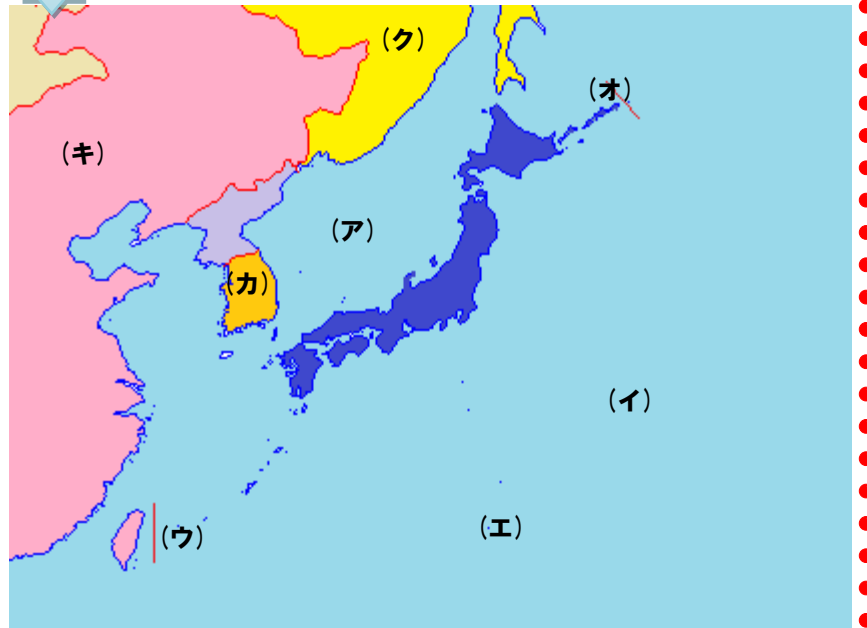
2 下の日本地図を見て、答えましょう。



(1) 日本は4つの大きな島からできています。下の () に書きましょう。

- (**北海道**)
- 本州
- (**四国**)
- (**九州**)

3 下の地図を見て答えましょう。



(1) 海の名前を書きましょう。

- (ア) (**日本海**)
- (イ) (**太平洋**)

(2) 日本の国土のはしにある次の島の名前を書きましょう。

- (ウ) (**西表島**)
- (エ) (**沖ノ鳥島**)
- (オ) (**えとろふ島**)

(3) 国の名前を書きましょう。

- (カ) (**かん国**)
- (キ) (**中国**)
- (ク) (**ロシア**)

(4) 地球上の位置を表す次の線を何と言いますか。

①南極と北極を結ぶ線

(**経線**)

②緯度0度の緯線

(**赤道**)



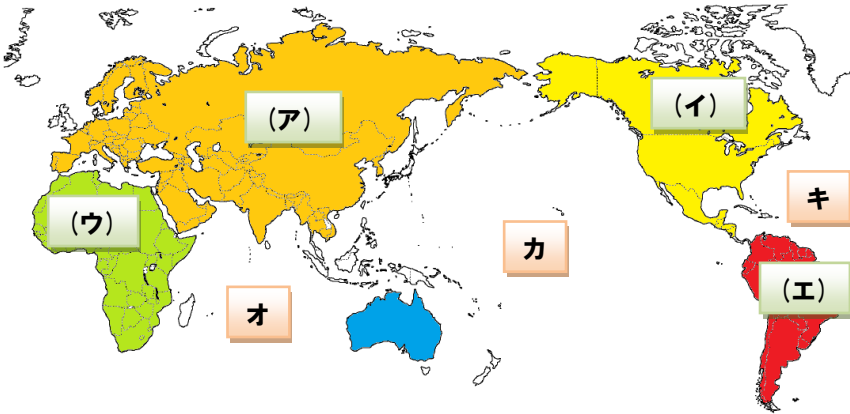
(各5点) 知識・理解(50)

技能(50)



1 下の世界地図を見て、答えましょう。

(1) (ア) から (エ) の大陸の名前を書きましょう。

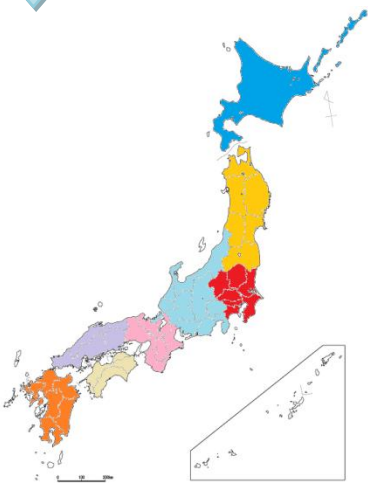


- (ア) () 大陸
- (イ) () 大陸
- (ウ) () 大陸
- (エ) () 大陸

(2) ①から③の海洋の名前を書きましょう。

- (オ) ()
- (カ) ()
- (キ) ()

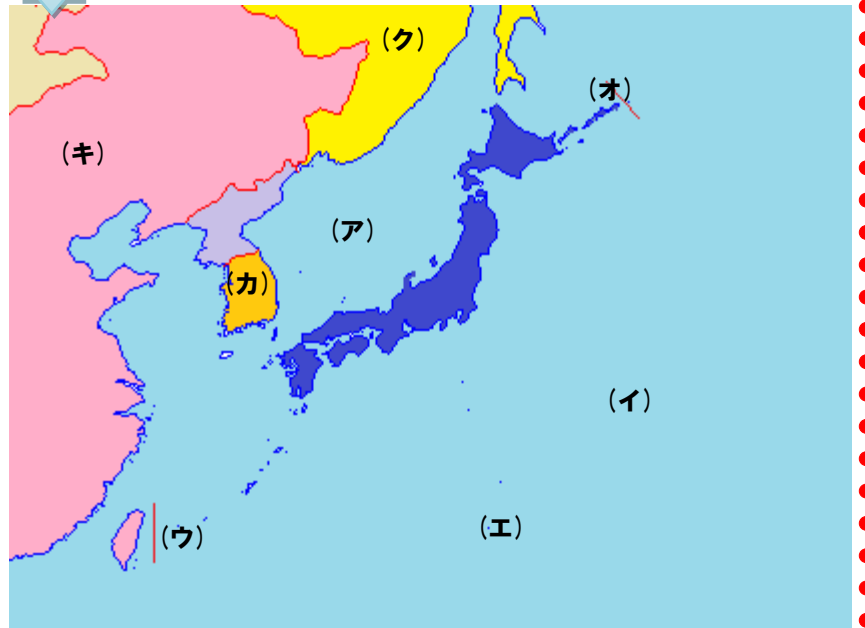
2 下の日本地図を見て、答えましょう。



(1) 日本は4つの大きな島からできています。下の () に書きましょう。

- ()
- 本州
- ()
- ()

3 下の地図を見て答えましょう。



(1) 海の名前を書きましょう。

- (ア) ()
- (イ) ()

(2) 日本の国土のはしにある次の島の名前を書きましょう。

- (ウ) ()
- (エ) ()
- (オ) ()

(3) 国の名前を書きましょう。

- (カ) ()
- (キ) ()
- (ク) ()

(4) 地球上の位置を表す次の線を何と言いますか。

①南極と北極を結ぶ線

()

②緯度0度の緯線

()

