



表現・処理(50)

数学的な考え方(50)

1 かけ算をしましょう。(5点×8)

① $0.4 \times 7 =$

② $0.6 \times 8 =$

③

$$\begin{array}{r} 2.8 \\ \times 6 \\ \hline \end{array}$$

④

$$\begin{array}{r} 17.6 \\ \times 8 \\ \hline \end{array}$$

⑤

$$\begin{array}{r} 0.4 \\ \times 7 \\ \hline \end{array}$$

⑥

$$\begin{array}{r} 9.4 \\ \times 23 \\ \hline \end{array}$$

⑦

$$\begin{array}{r} 64.2 \\ \times 60 \\ \hline \end{array}$$

⑧

$$\begin{array}{r} 7.15 \\ \times 4 \\ \hline \end{array}$$

2 筆算で計算しましょう。(5点×2)

① 0.63×7

② 9.4×25

3 冷ぞうこに0.7kgの肉が3パックあります。ぜんぶで何kgの肉がありますか。

(式)

(答え) _____

4 2.5ℓのペットボトルのジュースが6本あります。ぜんぶでジュースは何ℓありますか。

(式)

(答え) _____

5 毎日3.72kmウォーキングしています。7日間では、何kmウォーキングをしたことになりましたか。

(式)

(答え) _____

6 1ぴき7.8kgの魚が13ひきいます。ぜんぶで何kgになりますか。

(式)

(答え) _____

7 洗たくをするのに0.9ℓの水を使います。1日に3回洗たくすると、7日間では水を何ℓつかいますか。

(式)

(答え) _____

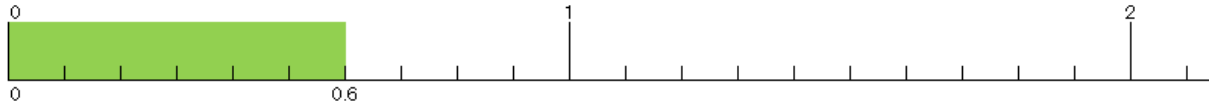


知識・理解(50)

1 下の(ア)~(オ)にあう数字を答えましょう。

(5点×4)

(ア) _____ (イ) _____ (ウ) _____ (エ) _____



0.6 × 3の計算を考えましょう。

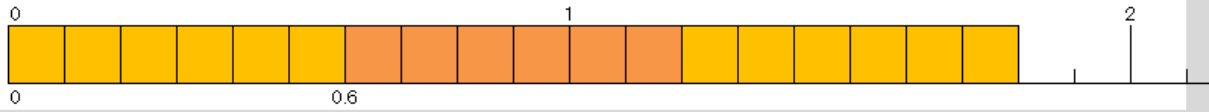


①0.6は、(ア) を6こ集めた数です。

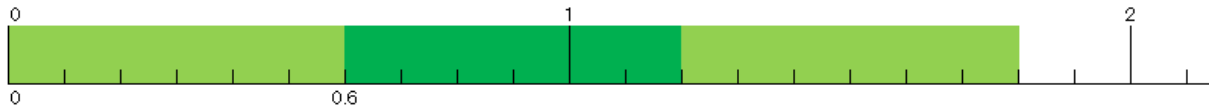
②0.6 × 3は、0.1をもとに考えると

$$6 \times 3 = \text{(イ)}$$

0.1が(ウ) こぶんになります。



③0.6 × 3 = (エ) になります。



2 次の間計算の間違えを見つけて、下に正しい答えを書きましょう。

(10点×3)

① 6.4×3

$$\begin{array}{r} 6.4 \\ \times 3 \\ \hline 19.2 \end{array}$$

② 8.4×23

$$\begin{array}{r} 8.4 \\ \times 23 \\ \hline 252 \\ 168 \\ \hline 2350 \end{array}$$

③ 0.4×97

$$\begin{array}{r} 0.4 \\ \times 97 \\ \hline 2.8 \\ 3.6 \\ \hline 3.88 \end{array}$$

--	--	--

1 かけ算をしましょう。(5点×8)

① $0.4 \times 7 = 2.8$

② $0.6 \times 8 = 4.8$

③

$$\begin{array}{r} 2.8 \\ \times 6 \\ \hline 16.8 \end{array}$$

④

$$\begin{array}{r} 17.6 \\ \times 8 \\ \hline 140.8 \end{array}$$

⑤

$$\begin{array}{r} 0.4 \\ \times 7 \\ \hline 2.8 \end{array}$$

⑥

$$\begin{array}{r} 9.4 \\ \times 23 \\ \hline 28.2 \\ \underline{188} \\ 216.2 \end{array}$$

⑦

$$\begin{array}{r} 64.2 \\ \times 60 \\ \hline 3852.0 \end{array}$$

⑧

$$\begin{array}{r} 7.15 \\ \times 4 \\ \hline 28.60 \end{array}$$

2 筆算で計算しましょう。(5点×2)

① 0.63×7

$$\begin{array}{r} 0.63 \\ \times 7 \\ \hline 4.41 \end{array}$$

② 9.4×25

$$\begin{array}{r} 9.4 \\ \times 25 \\ \hline 470 \\ \underline{188} \\ 235.0 \end{array}$$

(式・答え 各5点×6)

3 冷ぞうこに0.7kgの肉が3パックあります。ぜんぶで何kgの肉がありますか。

(式) $0.7 \times 3 = 2.1$

$$\begin{array}{r} 0.7 \\ \times 3 \\ \hline 2.1 \end{array}$$

(答え) 2.1 kg

4 2.5ℓのペットボトルのジュースが6本あります。ぜんぶでジュースは何ℓありますか。

(式) $2.5 \times 6 = 15.0$

$$\begin{array}{r} 2.5 \\ \times 6 \\ \hline 15.0 \end{array}$$

(答え) 15ℓ

5 毎日3.72kmウォーキングしています。7日間では、何kmウォーキングをしたことになりましたか。

(式) $3.72 \times 7 = 26.04$

$$\begin{array}{r} 3.72 \\ \times 7 \\ \hline 26.04 \end{array}$$

(答え) 26.04 km

6 1匹き7.8kgの魚が13匹います。ぜんぶで何kgになりますか。

(式) $7.8 \times 13 = 101.4$

$$\begin{array}{r} 7.8 \\ \times 13 \\ \hline 234 \\ \underline{78} \\ 101.4 \end{array}$$

(式) $7.8 \times 13 = 101.4$

(答え) 101.4 kg

7 洗たくをするのに0.9ℓの水を使います。1日に3回洗たくすると、7日間では水を何ℓつかいますか。

(式) $0.9 \times 3 = 2.7$

$$2.7 \times 7 = 18.9$$

(答え) 18.9ℓ

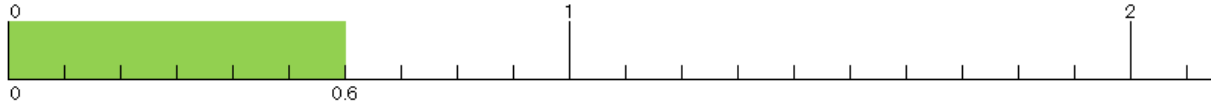


知識・理解(50)

1 下の(ア)~(オ)にあう数字を答えましょう。

(5点×4)

(ア) 0.1 (イ) 18 (ウ) 18 (エ) 1.8



0.6 × 3の計算を考えましょう。

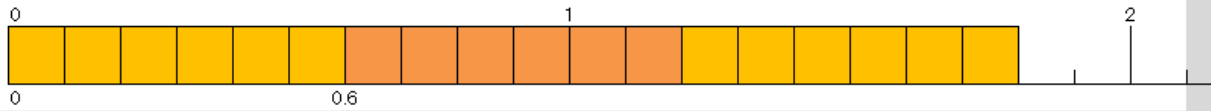


①0.6は、(ア)を6こ集めた数です。

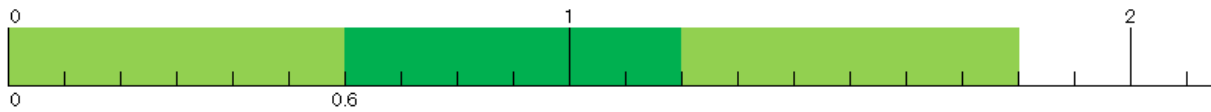
②0.6 × 3は、0.1をもとに考えると

$$6 \times 3 = \text{(イ)}$$

0.1が(ウ)こぶんになります。



③0.6 × 3 = (エ) になります。



2 次の間計算の間違えを見つけて、下に正しい答えを書きましょう。

(10点×3)

① 6.4×3	② 8.4×23	③ 0.4×97
$\begin{array}{r} 6.4 \\ \times 3 \\ \hline 19.2 \end{array}$	$\begin{array}{r} 8.4 \\ \times 23 \\ \hline 252 \\ 168 \\ \hline 2350 \end{array}$	$\begin{array}{r} 0.4 \\ \times 97 \\ \hline 2.8 \\ 3.6 \\ \hline 3.88 \end{array}$
$\begin{array}{r} 6.4 \\ \times 3 \\ \hline 19.2 \end{array}$	$\begin{array}{r} 8.4 \\ \times 23 \\ \hline 252 \\ 168 \\ \hline 193.2 \end{array}$	$\begin{array}{r} 0.4 \\ \times 97 \\ \hline 28 \\ 36 \\ \hline 38.8 \end{array}$