



(5点×8)

表現・処理(50)

(式・答え 各5点×10)

数学的な考え方(50)

1 わりきれるまで、わり算をしましょう。

① $4.8 \div 4 =$

② $6.4 \div 2 =$

③

④

$$4 \overline{) 5.2}$$

$$8 \overline{) 38.4}$$

⑤

⑥

$$8 \overline{) 4.8}$$

$$26 \overline{) 83.2}$$

⑦

⑧

$$43 \overline{) 25.8}$$

$$8 \overline{) 2}$$

2 商は1の位まで求めて、あまりをだしましょう。

(5点×2)

① $96.4 \div 8$

② 88.4×25

$$8 \overline{) 96.4}$$

$$25 \overline{) 88.4}$$

() ()

3 冷ぞうこに1.6kgのアイスがあります。4人で同じ量に分けると1人分は何kgのアイスが食べられますか。

(式)

(答え) _____

4 26ℓのペットボトルのジュースを4人で当分します。1人分のジュースは何ℓになりますか。

(式)

(答え) _____

5 32.6mのテープがあります。5mのテープをいくつか切るとき、何本テープができて何mテープはあまりますか。

(式)

(答え) _____

6 6ℓで9kgの油があります。この油1ℓの重さは何kgになりますか。

(式)

(答え) _____

7 牛肉は900円、豚肉は600円です。牛肉のねだんは、ぶた肉のねだんの何倍ですか。

(式)

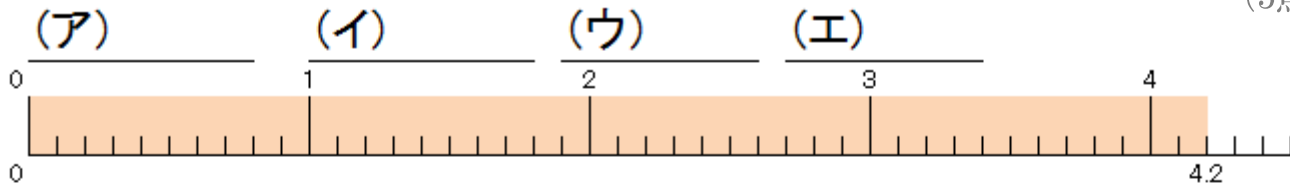
(答え) _____



知識・理解(50)

1 下の(ア)~(オ)にあう数字を答えましょう。

(5点×4)



4.2 ÷ 3 の計算を考えましょう。

① 4.2は、(ア)を42に集めた数です。
 ② 4.2 ÷ 3は、0.1をもとに考えると
 $42 \div 3 =$ (イ) となり
 0.1が(ウ)こぶんになります。

③ $4.2 \div 3 =$ (エ) になります。

2 わり算をわりきれぬまでして、けん算をしましょう。

(5点×4)

	① $62.4 \div 6$	② $0.39 \div 13$	③ $27.54 \div 27$
筆算	$6 \overline{) 62.4}$ ()	$13 \overline{) 0.39}$ ()	$27 \overline{) 27.54}$ ()
けん算			

(5点×8)

1 わりきれるまで、わり算をしましょう。

① $4.8 \div 4 = 1.2$

② $6.4 \div 2 = 3.2$

③ ④

$$\begin{array}{r} 1.3 \\ 4 \overline{) 5.2} \\ \underline{4} \\ 1 \\ \underline{1 } \\ 0 \end{array}$$

$$\begin{array}{r} 4.8 \\ 8 \overline{) 38.4} \\ \underline{32} \\ 6 \\ \underline{6 } \\ 0 \end{array}$$

⑤ ⑥

$$\begin{array}{r} 0.6 \\ 8 \overline{) 4.8} \\ \underline{4 } \\ 0 \end{array}$$

$$\begin{array}{r} 3.2 \\ 26 \overline{) 83.2} \\ \underline{78} \\ 5 \\ \underline{5 } \\ 0 \end{array}$$

⑦ ⑧

$$\begin{array}{r} 0.6 \\ 43 \overline{) 25.8} \\ \underline{25 } \\ 0 \end{array}$$

$$\begin{array}{r} 0.25 \\ 8 \overline{) 2} \\ \underline{16} \\ 4 \\ \underline{4 } \\ 0 \end{array}$$

(5点×2)

2 商は1の位まで求めて、あまりをだしましょう。

① $96.4 \div 8$

$$\begin{array}{r} 12 \\ 8 \overline{) 96.4} \\ \underline{8} \\ 1 \\ \underline{1 } \\ 0.4 \end{array}$$

(12あまり0.4)

② 88.4×25

$$\begin{array}{r} 3 \\ 25 \overline{) 88.4} \\ \underline{75} \\ 13.4 \end{array}$$

(3あまり13.4)

(式・答え 各5点×10)

3 冷ぞうこに1.6kgのアイスがあります。4人で同じ量に分けると1人分は何kgのアイスが食べられますか。

(式) $1.6 \div 4 = 0.4$

(答え) 0.4 kg

4 26ℓのペットボトルのジュースを4人で当分します。1人分のジュースは何ℓになりますか。

(式) $26 \div 4 = 6.5$

(答え) 6.5 ℓ

5 32.6mのテープがあります。5mのテープをいくつか切るとき、何本テープができて何mテープはあまりますか。

(式) $32.6 \div 5 = 6 \dots 2.6$

(答え) 6本あまり2.6 m

6 6ℓで9kgの油があります。この油1ℓの重さは何kgになりますか。

(式) $9 \div 6 = 1.5$

(答え) 1.5 kg

7 牛肉は900円、豚肉は600円です。牛肉のねだんは、ぶた肉のねだんの何倍ですか。

(式) $900 \div 600 = 1.5$

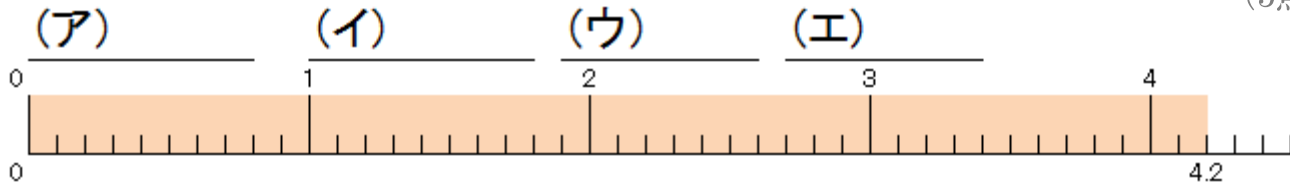
(答え) 1.5 倍



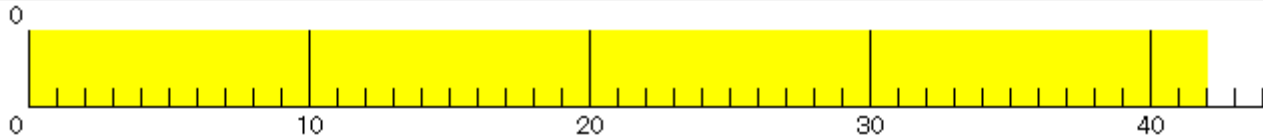
知識・理解(50)

1 下の(ア)~(オ)にあう数字を答えましょう。

(5点×4)



4.2÷3の計算を考えましょう。

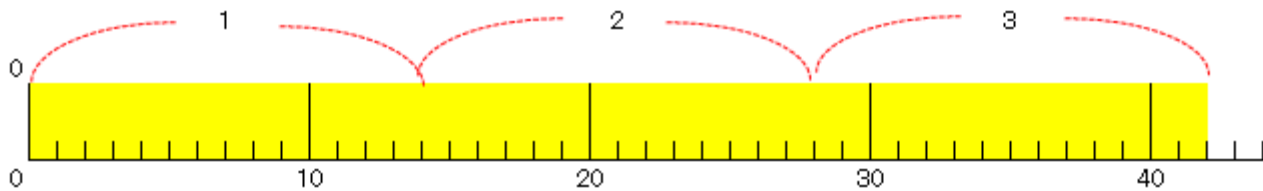


①4.2は、(ア)を42に集めた数です。

②4.2÷3は、0.1をもとに考えると

$$42 \div 3 = \text{(イ)}$$

0.1が(ウ)こぶんになります。



③4.2÷3=(エ)になります。

2 わり算をわりきれるまでして、けん算をしましょう。

(5点×4)

	① $62.4 \div 6$	② $0.39 \div 13$	③ $27.54 \div 27$
筆算	$\begin{array}{r} 10.4 \\ 6 \overline{) 62.4} \\ \underline{6} \\ 24 \\ \underline{24} \\ 0 \end{array}$ <p>(10.4)</p>	$\begin{array}{r} 0.03 \\ 13 \overline{) 0.39} \\ \underline{39} \\ 0 \end{array}$ <p>(0.03)</p>	$\begin{array}{r} 1.02 \\ 27 \overline{) 27.54} \\ \underline{27} \\ 54 \\ \underline{54} \\ 0 \end{array}$ <p>(1.02)</p>
けん算	$6 \times 10.4 = 62.4$	$13 \times 0.03 = 0.39$	$27 \times 1.02 = 27.54$