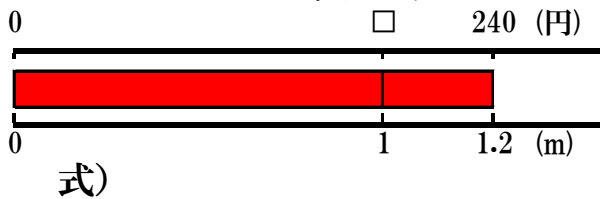


-
- リボンを2.5m買ったなら、代金は300円でした。
このリボン1mのねだんは何円ですか。



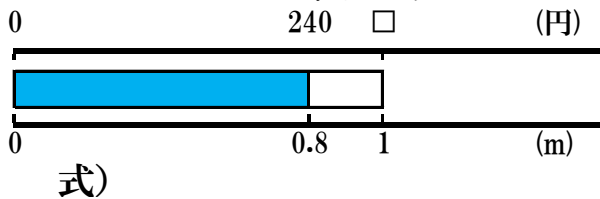
答え()

- ① 1.2mの代金が240円の赤のリボン
1mのねだんはいくらですか。



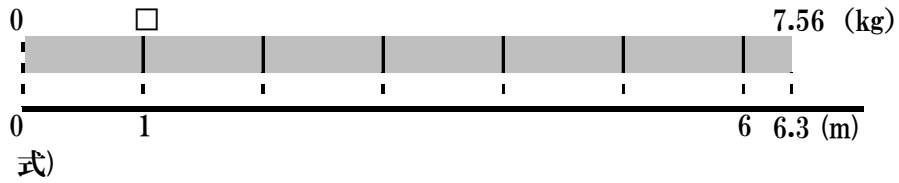
答え()

- ② 0.8mの代金が240円の青のリボン
1mのねだんはいくらですか。



答え()

-
- 6.3mの重さが7.56kgの鉄のぼうがあります。
この鉄のぼう1mの重さは何kgですか。



答え()
