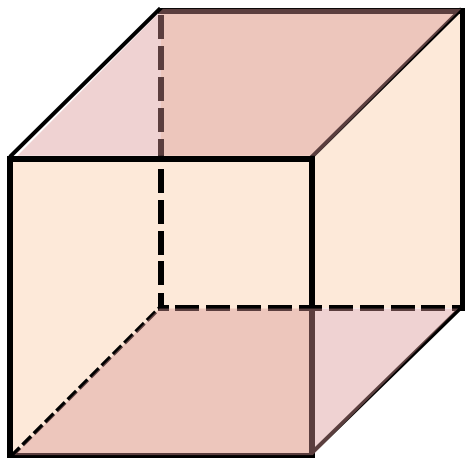


①下の立体について答えましょ●立体の名前・・・（ ）

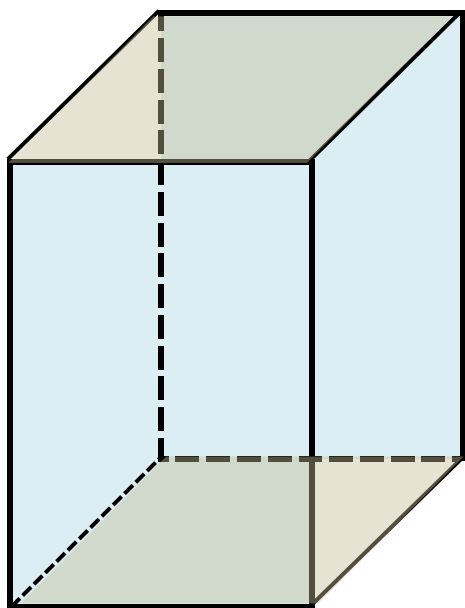


●面の数・・・（ ）

●辺の数・・・（ ）

●ちょう点の数・・・（ ）

②下の立体について答えましよう



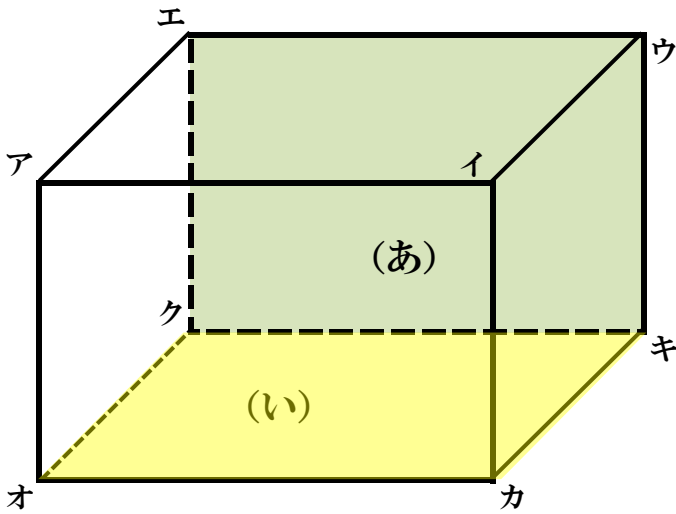
●立体の名前・・・（ ）

●面の数・・・（ ）

●辺の数・・・（ ）

●ちょう点の数・・・（ ）

●次の直方体を見て、考えましょう



●面 (あ) にすい直な面はいくつありますか。 ()

●面 (い) にすい直な辺をぜんぶ書きましょう。

()

●辺アイに平行な辺をぜんぶ書きましょう。

()