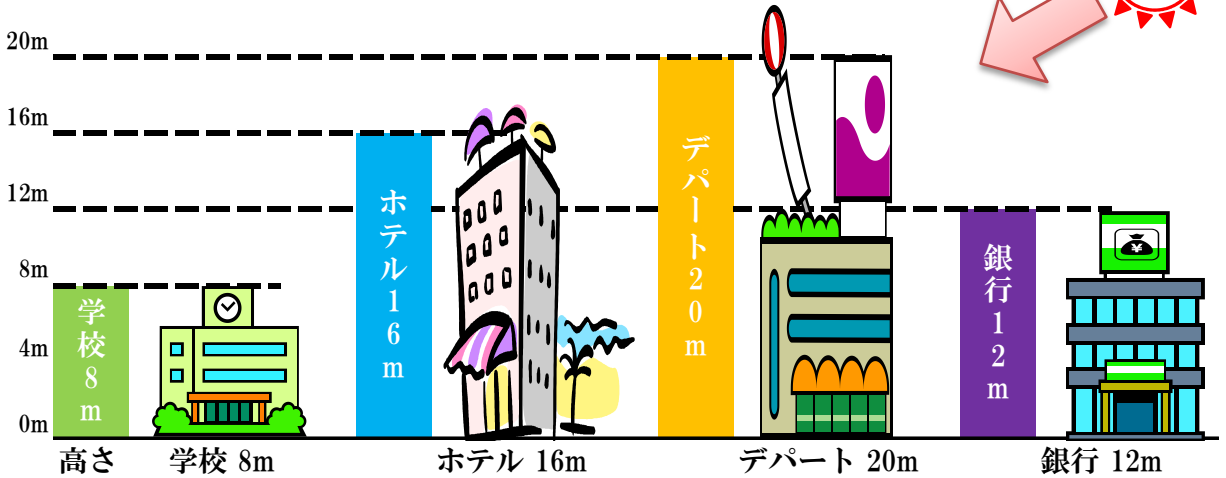
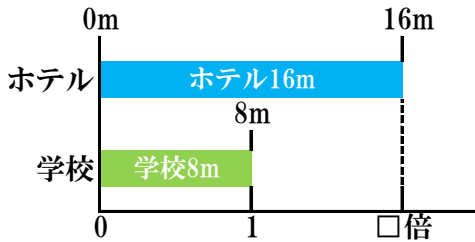




●4つのたてものの高さをくらべてみましょう。



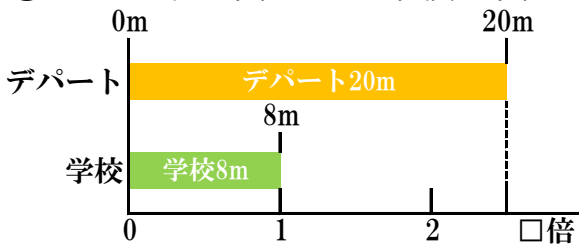
①ホテルの高さは、学校の高さの何倍ですか。



式) _____

答え) _____

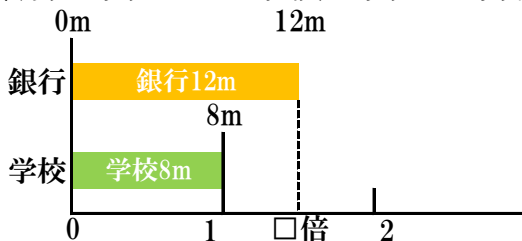
②デパートの高さは、学校の高さの何倍ですか。



式) _____

答え) _____

③銀行の高さは、学校の高さの何倍ですか。

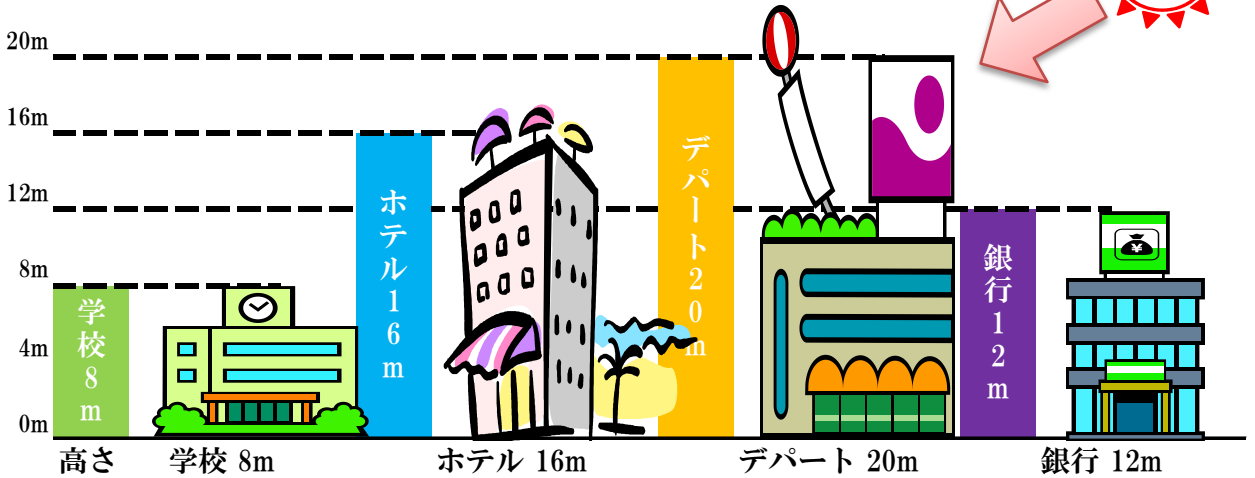


式) _____

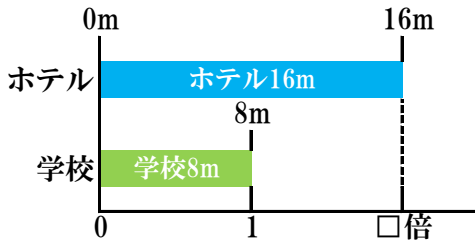
答え) _____



●4つのたてものの高さをくらべてみましょう。



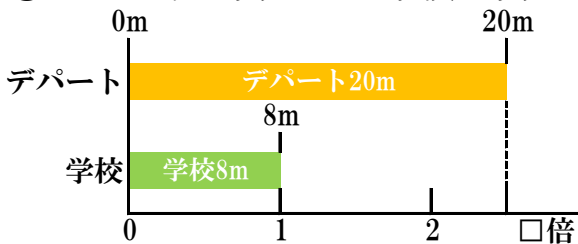
①ホテルの高さは、学校の高さの何倍ですか。



式) $16 \div 8 = 2$

答え) 2倍

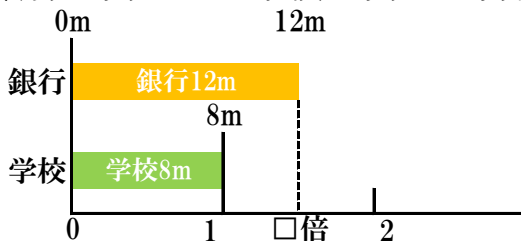
②デパートの高さは、学校の高さの何倍ですか。



式) $20 \div 8 = 2.5$

答え) 2.5倍

③銀行の高さは、学校の高さの何倍ですか。



式) $12 \div 8 = 1.5$

答え) 1.5倍