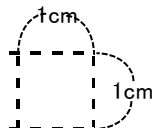


① 次の色のついた形の面積を考えましょう。



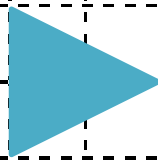
2cm^2




4cm^2




1cm^2




1cm^2



2cm^2



3cm^2



3cm^2

② 面積 6cm^2 の色の形をたくさん作りましょう。

